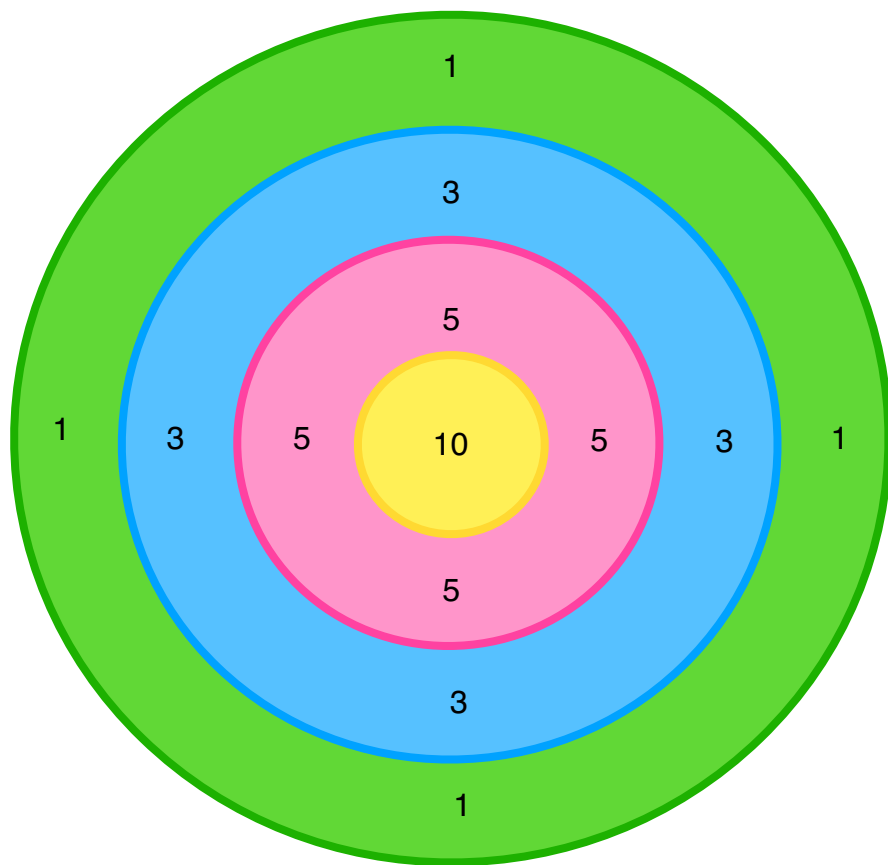


EN PLEIN DANS LE



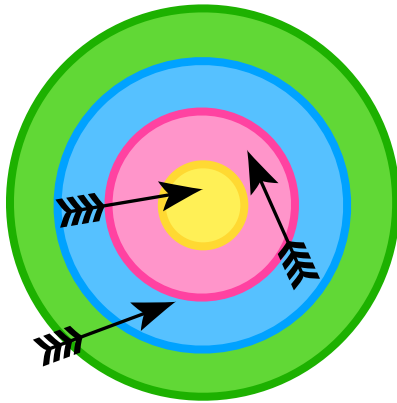

Voici les valeurs de chaque zone

Voici le jeu
« EN PLEIN DANS LE MILLE »

Calcule sur ton ardoise les points indiqués par les flèches positionnées sur la cible.

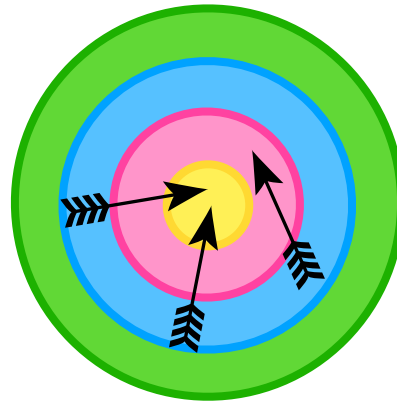
Vérifie ensuite si tu as trouvé le bon score au dos de la carte.

1 EN PLEIN DANS LE



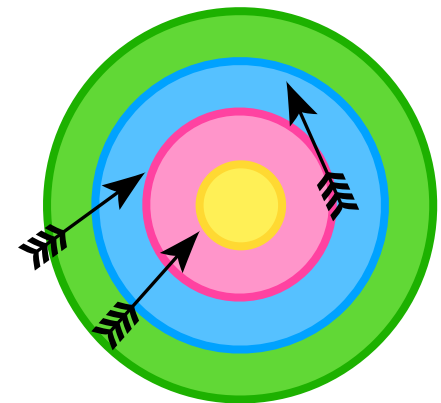

Calcule les points obtenus avec ces flèches.

2 EN PLEIN DANS LE



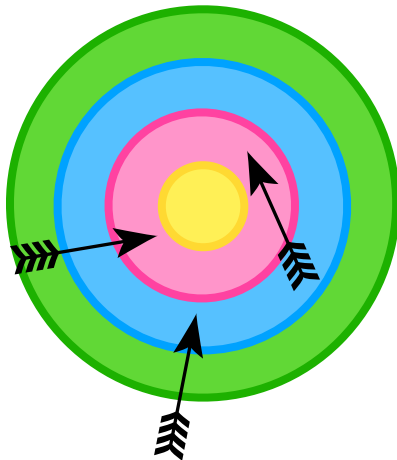
Calcule les points obtenus avec ces flèches.

3 EN PLEIN DANS LE




Calcule les points obtenus avec ces flèches.

4 EN PLEIN DANS LE



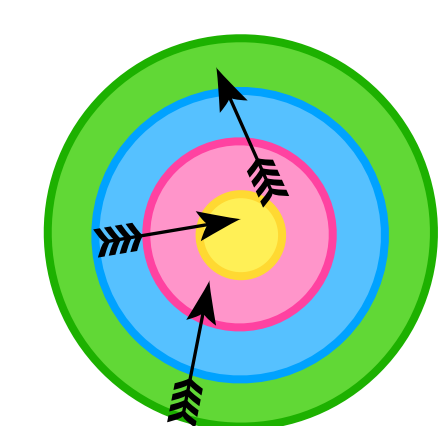
Calcule les points obtenus avec ces flèches.

5 EN PLEIN DANS LE



Calcule les points obtenus avec ces flèches.

6 EN PLEIN DANS LE



Calcule les points obtenus avec ces flèches.

3 EN PLEIN DANS LE
→

$$3 + 3 + 5$$

Score = 11

2 EN PLEIN DANS LE
→

$$10 + 10 + 5$$

Score = 25

1 EN PLEIN DANS LE
→

$$3 + 5 + 10$$

Score = 18

6 EN PLEIN DANS LE
→

$$1 + 5 + 10$$

Score = 16

5 EN PLEIN DANS LE
→

$$5 + 5 + 10$$

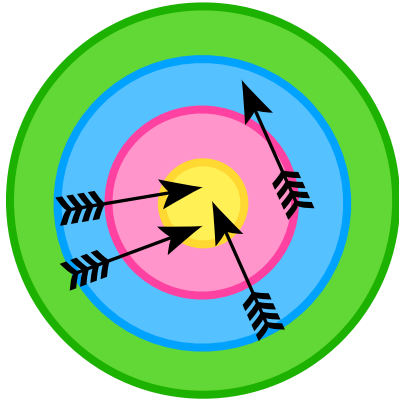
Score = 20

4 EN PLEIN DANS LE
→

$$3 + 5 + 5$$

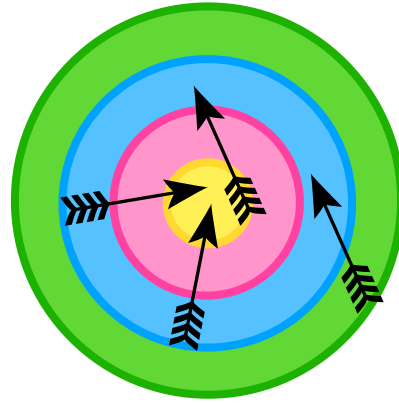
Score = 13

7 EN PLEIN DANS LE



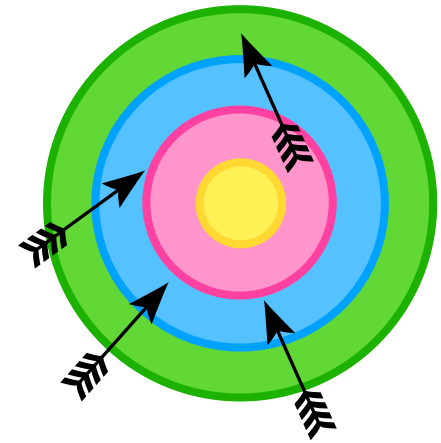
Calcule les points obtenus avec ces flèches.

8 EN PLEIN DANS LE




Calcule les points obtenus avec ces flèches.

9 EN PLEIN DANS LE




Calcule les points obtenus avec ces flèches.

10 EN PLEIN DANS LE



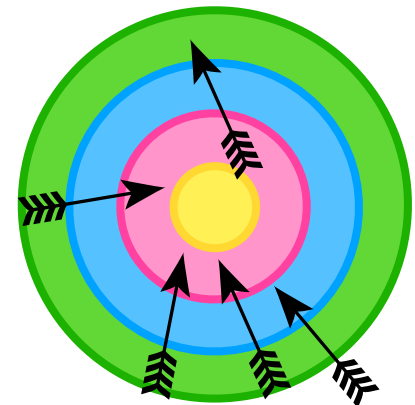
Calcule les points obtenus avec ces flèches.

11 EN PLEIN DANS LE



Calcule les points obtenus avec ces flèches.

12 EN PLEIN DANS LE



Calcule les points obtenus avec ces flèches.

9 EN PLEIN DANS LE
▶────────────────────────────────▶

$$1 + 3 + 3 + 3$$

Score = 10

8 EN PLEIN DANS LE
▶────────────────────────────────▶

$$3 + 3 + 10 + 10$$

Score = 26

7 EN PLEIN DANS LE
▶────────────────────────────────▶

$$3 + 10 + 10 + 10$$

Score = 33

12 EN PLEIN DANS LE
▶────────────────────────────────▶

$$1 + 3 + 5 + 5 + 5$$

Score = 19

11 EN PLEIN DANS LE
▶────────────────────────────────▶

$$1 + 3 + 3 + 5 + 10$$

Score = 22

10 EN PLEIN DANS LE
▶────────────────────────────────▶

$$3 + 3 + 5 + 5 + 10$$

Score = 26